

1 HISTORIE OBLASTI V SOUVISLOSTECH

?

Doplň.

Žinkovy jsou poprvé v pramenech zmiňovány roku ____ (MCLXXVI). Jedná o období, kdy členové panovnického rodu _____ bojovali mezi sebou o moc. V době, kdy se na trůnu vystřídal _____ zvaný Jednooký a jeho syn _____ přezdívaný král železný a zlatý, konkrétně v letech ____ (MCCLII) až ____ (MCCLIX), postavil Půta z Křimic v blízkosti Žinkov hrad Potštejn. Ve 14. století získaly Žinkovy práva městečka. V roce ____ (MCDXXXVII), kdy zemřel poslední panovník z rodu Lucemburků _____, přešly Žinkovy dědictvím na Přibíka z Klenové. Na počátku vlády _____, který nechal popravit 27 českých pánů na Staroměstském náměstí, byl v letech ____ (MDCXXIV) až ____ (MDCXLII) v místech tvrze vybudován nový zámek.

2 MAPA

?

Žinkovy najdeme asi 7 km západně od Nepomuku. Zakresli do mapy šipku od Žinkov směrem, kterým bychom našli Nepomuk, kdyby mapa zahrnovala i tato území.

?

Pod správní území Žinkov patří vesnice Březí, Čepinec a Kokořov. Zakresli tyto vesnice do mapy.



3

JAN KŘTITEL ANTONÍN BOHÁČ

Jan Křtitel Antonín Boháč se narodil roku ____ (MDCCXXIV) v Žinkovech. Byl výraznou osobností českého osvícenství. Stal se děkanem pražské lékařské fakulty, později i rektorem Univerzity Karlovy.



Byl to:

- lékař, básník a publicista
- lékař, publicista a vlastivědný pracovník
- lékař, přírodovědec a publicista



Vysvětli pojem osvícenství.



Kde sídlí Karlova Univerzita? Kdo ji založil? _____

4

HRAD POTŠTEJN (ZŘÍČENINA)

Panské sídlo existovalo v Žinkovech od 12. století, v první polovině 15. již Potštejn nebyl obýván.



Kolik let mohl být hrad obýván? _____



Potštejn byl složený z jádra a předhradí. Které budovy nebo místnosti se nacházely v předhradí a které v jádře hradu?

- předhradí: _____
- jádro hradu: _____

5

KOSTEL SV. VÁCLAVA



Doplň.

Kostel sv. Václava byl jako farní kostel zmiňován již roku ____ (MCCCLII), byl tedy vystavěn v _____ slohu. V roce ____ (MDCCXXXIV) vyhořel a o rok později byla postavena nová stavba v _____ slohu.




V areálu kostela stojí dvě kaple, které dříve sloužily jako márnice a kostnice. Vyber z možností, k čemu dle názvu konkrétně sloužily.

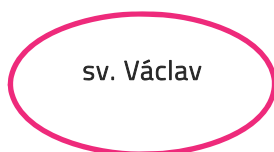
MÁRNICE

- pietní místo, kde se pohřbívají mrtví lidé, respektive ostatky jejich těl
- místo k ukládání lidských kosterních pozůstatků
- používá se k dočasnému uložení lidských ostatků, většinou po dobu nezbytně nutnou k identifikaci nebo po čas, než dojde k pohřbu; sloužila také k ověření, zda je jedinec skutečně mrtvý


KOSTNICE

- místo k dočasnému uložení lidských ostatků, většinou po dobu nezbytně nutnou k identifikaci nebo po čas, než dojde k pohřbu; sloužila také k ověření, zda je jedinec skutečně mrtvý
- místo k ukládání lidských kosterních pozůstatků
- pietní místo, kde se pohřbívají mrtví lidé, respektive ostatky jejich těl


 Hlavní oltář kostela nese obraz sv. Václava. Doplň myšlenkovou mapu o této osobě (alespoň 5 informací)




6 ZÁMEK (Č. P. 36)

 Zámek je romantické pseudoslohové sídlo. Co to znamená?

- Zámek je zvenčí přestavěn v secesi, interiér je přestavěn v kubismu.
- Zámek je přestavěn v novorenesančním slohu.
- Zámek je přestavěn v bezduchém napodobení starších slohů smísených dohromady.

 V letech 1915–1945 byla majitelem rodina průmyslníka Karla Škody, syna Emila Škody. Čím se tato rodina proslavila?

 Srovnej život na zámku a život na hradě. Uveď ke každému alespoň tři charakteristiky.

ZÁMEK	HRAD
<ul style="list-style-type: none">▪	<ul style="list-style-type: none">▪



HOSPODÁŘSKÝ DVŮR (Č. P. 35)

Blízko žinkovského zámku se nachází bývalý vrchnostenský hospodářský dvůr. Ten je založen na trojúhelném půdorysu, kdy se v zadní části areálu rozkládá velká sýpka. Dále areál tvoří bývalé chlévy. Blíže k obci se nachází obytná budova obdélného půdorysu.

? Načrtni, jak dle tohoto popisu hospodářský dvůr vypadá.

? Vyber, které další stavby se mohou v hospodářském dvoře nacházet.

radnice

kolny

kurníky

stáje

zvonička

kaple

škola

stodola



SOCHA PANNY MARIE IMMACULATY

? Popiš, jak socha vypadá.

? Jak se obecně tento typ sochy nazývá? _____



OBROVO HRADIŠTĚ (ROVINNÉ NEOPEVNĚNÉ SÍDLIŠTĚ)

Obrovo hradiště je sídliště, které bylo vybudováno v době bronzové lidem kultury popelnicových polí. Od konce 8. století bylo využíváno Slovany.

? Která doba následovala po době bronzové? _____

? Vysvětli, proč lid, který zde sídlil, nazýváme lidem kultury popelnicových polí.

? Seřad' uvedené kmeny chronologicky podle toho, kdy žili na našem území: Slované, Keltové, Germáni.

? Osvětli na základě pověsti, proč sídliště nese jméno Obrovo hradiště.
