

1 HISTORIE OBLASTI V SOUVISLOSTECH

? Dopln

První písemná zmínka pochází z roku ____ (MCCXXXIX). V této době v Čechách panuje _____ a užívá královský titul na základě listiny _____, kterou získal jeho otec _____ roku ____ (MCCXII). V roce ____ (MCCLXIII), za vlády _____, který padl v bitvě na Moravském poli v roce ____, bylo Spálené Poříčí prodané klášteru v Kladrubech. V době vlády _____, který dosáhl Kutnohorského míru (náboženského smíru), konkrétně v roce ____ (MDXIV), získalo městečko právo týdenního trhu. V roce ____ (MDCXX), kdy vládl _____, známý jako zimní král, v rámci _____ války císařští vojáci pod vedením generála Karla Buquoye po pětidenním pobytu při svém odchodu městečko podpálili. Poté se vžil název _____.

? Které další kláštery se nacházejí v západních Čechách? Vyjmenuj alespoň tři.

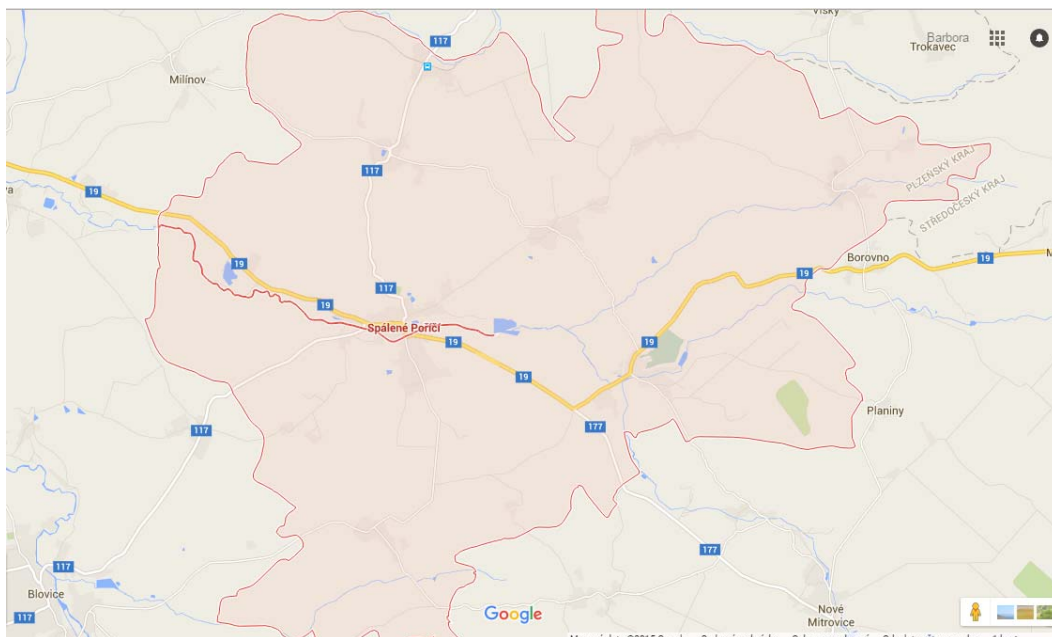
? Která další práva mohlo středověké město získat? Vyjmenuj alespoň tři. _____

? Kterého dalšího velitele císařských vojsk z období tohoto válečného konfliktu znáš?

2 MAPA

? Spálené Poříčí najdeme asi 6 km severovýchodně od Blovice. Zakresli do mapy šipku od Spáleného Poříčí směrem, kterým bychom našli Blovice, kdyby mapa zahrnovala i tato území.

? Pod správní území Spáleného poříčí patří vesnice Čičov, Hořehledy, Hořice, Karlov, Lipnice, Lučístě, Struhaře, Těnovice, Vlkov a Záluží. Zakresli tyto vesnice do mapy.



3

VÝZNAMNÉ OSOBNOSTI

„Narodil jsem se ve Spáleném Poříčí. Vystudoval jsem bohosloví a v roce 1939 jsem byl vysvěcen na kněze. Svě povolání jsem nemohl vždy vykonávat. Nejprve jsem byl devět let vězněn a poté jsem měl zákaz. Během této doby jsem pracoval manuálně v plzeňském pivovaru. Po roce 1968 jsem se mohl ke svému povolání vrátit jako duchovní správce v domově pro seniory v Újezdci u Klatov. Později jsem se přestěhoval do Sušice, kde jsem působil jako lidový léčitel.“

? Přečti si krátký text a urči o kom je.

1) Jiří Kajer

2) Jindřich Šimon Baar

3) František Ferda

? Jakým způsobem si Spálené Poříčí tuto významnou osobnost připomíná?

? Který pro Českou republiku významný muž pracoval v pivovaru, když během komunistického režimu nemohl vykonávat své povolání? -----

4

KOSTEL SV. MIKULÁŠE

Farní kostel ve Spáleném Poříčí má půdorys latinského kříže. K trojboce uzavřenému kněžišti je připojena stejně široká obdélná **lod'** (1) se dvěma čtvercovými **kaplemi** (2) po stranách. V průčelí je **věž** (3) čtvercového půdorysu, která je zastřešena jehlancem.

? Kostel pochází zřejmě ze 14. století. Ve kterém slohu byl původně vystavěn? -----

? Současná podoba kostela pochází z roku 1882. Napiš tento letopočet římskými číslicemi. Urči, o které století se jedná.

? Vyber, jak vypadá půdorys latinského kříže.



? V textu jsou tučně vyznačené některé části kostela. Zakroužkuj je na fotografii.



5

ŽIDOVSKÉ ZÁSTAVBY A ŽIDOVSKÝ HŘBITOV

? Jak se nazývá část města, kde žili židé? -----

? Rozlušti, které budovy například se v židovské zástavbě nacházely.

▪ LŠOK A -----

▪ GANYS AGO -----

▪ LZ ĚNÁ -----

▪ OTS NEHC -----

? Na židovském hřbitově je dochováno asi 250 náhrobků. Ve kterém jazyce jsou nápisy na náhrobcích nejčastěji? -----

6

SOCHA SV. JANA NEPOMUCKÉHO, SV. ANTONÍNA PADUÁNSKÉHO A PANNY MARIE SVATOHORSKÉ

? U kostela sv. Mikuláše najdeme tři barokní sochy. Vyznač na časové ose, kdy mohly vzniknout.



? Jedná se o sochy sv. Jana Nepomuckého, Panny Marie Svatohorské a sv. Antonína Paduánského. Přiřaď k jednotlivým fotografiím název sochy, která se na nich nachází.



7

ZÁMEK (Č. P. 1)

? Zámek byl vybudován jako renesanční novostavba. Vyznač na časové ose, kdy mohl být vybudován.



? Který typický prvek renesanční architektury můžeme na zámku vidět? Popiš/vyznač, kde konkrétně.

? Které další prvky renesance jsou patrné?

? Vstupní věž byla vybudována jako poslední, je vystavěna v jiném než renesančním slohu. Urči dle fotografie, ve kterém.



8

PANSKÝ PIVOVAR (Č. P. 2)

? Budova panského pivovaru byla vybudována v tzv. císařském slohu. O který sloh se jedná?

? Za vlády kterého císaře se tento sloh rozšířil? -----

? Na výrobu piva dohlíželo několik řemeslníků. Kdo dohlížel na co? Pospoj pojmy s jejich významem.

sladovník	dopravoval vyrobený slad v pytlích ze sladoven do pivovaru
šrotýř	dohlížel na kvašení piva v kvasných kádích a na jeho zrání
pivovarník	vyráběl slad z ječmene nebo pšenice
sklepník	vařil slad a chmel na mladinu

9

MĚSTSKÉ DOMY

Dům č. p. 138 byl původně postaven s roubeným průčelím (přední strana budovy). Dům byl upraven v době první republiky. Před roubené průčelí bylo tehdy představeno nové průčelí z cihel.



? Dokresli do fotografie, jak asi vypadalo původní průčelí tohoto domu.

? Urči rozmezí let, kdy mohlo dojít k přestavbě domu. -----

Dům č. p. 61 je bývalý židovský kupecký dům. Jeho fasáda byla počátkem 20. století doplněna secesními motivy. V patře je černá kuchyně se dvěma ohništi pro oddělenou přípravu masných a mléčných pokrmů.


? Ve které části města se tento dům nacházel? -----


? Jaké motivy zdobení si představíme pod označením secesní motivy?


? Vysvětli, co to je černá kuchyně.

 Vyhledej na internetu / v encyklopedii, proč v tomto domě byla dvě ohniště.

DĚKANSTVÍ (Č. P. 139)

 Urči dle fotografie, ve kterém slohu je budova postavena.

 Vyjmenuj a na fotografii vyznač prvky tohoto slohu.

 Sídlem čeho je děkanství?

- děkanátu, v jehož čele je děkan, tedy akademický funkcionář, který jedná a rozhoduje o věcech fakulty
- děkana, který má za úkol dohlížet nad deseti mnichy, které vyučuje
- děkanátu, v jehož čele je děkan, který je na území svého děkanátu pomocníkem biskupa v řízení diecéze; děkanát se skládá z několika farností

