

## 1 PRVNÍ PÍSEMNÁ ZMÍNKA V SOUVISLOSTECH

?

Doplň.

Z doby vlády **Václava IV.**, během níž kázal Jan Hus v Betlémské kapli, pochází první zmínka o Radkovicích. Jedná se o rok **1397** (MCCCXCVII).

?

Z kterého panovnického rodu pocházel tento panovník? **Lucemburků**

?

Kdy zemřel Jan Hus? Za jakých okolností?

**6. 7. 1415 v Kostnici, byl upálen na hranici, když odmítl odvolat své učení**

?

Kde se nachází Betlémská kaple? **v pražském Starém Městě**

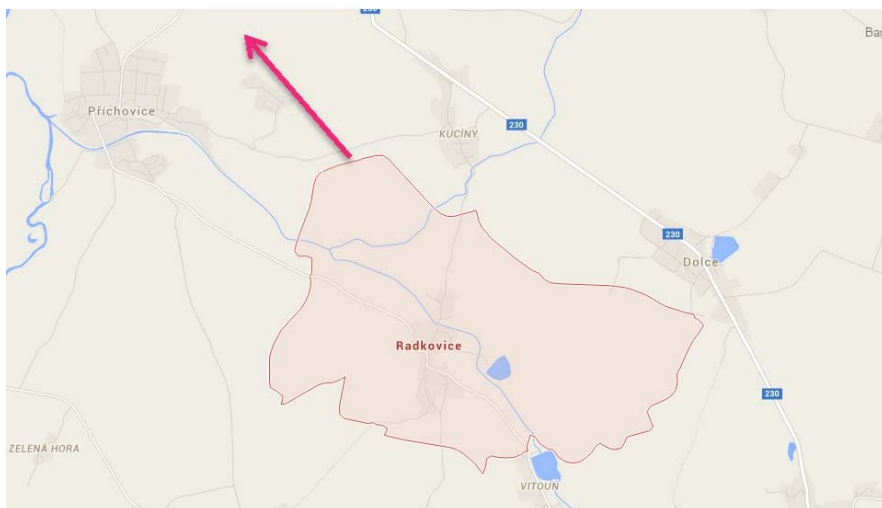
?

Které hnutí vzniklo z okruhu stoupců Jana Husa? **husitství**

## 2 MAPA

?

Radkovice najdeme asi 5 km jihovýchodně od Přeštice. Zakresli do mapy šipku od Radkovic směrem, kterým bychom našli Přeštice, kdyby mapa zahrnovala i toto území.



## 3 POKLAD GROŠŮ

V roce 1882 byl ve vesnici nalezen velký poklad grošů, který byl ukryt před rokem 1440.


?

Uvedené letopočty napiš římskými číslicemi a stanov, o které století se jedná.

- **MDCCCLXXXII, 19. stol.**
- **MCDXL, 15. stol.**

?

Co to byl GROŠ? Vysvětli. **stříbrná mince, v Čechách pražský groš ražený od roku 1300**

 Za kterého panovníka se groš začal v Čechách používat?

Václav I.

Přemysl Otakar II.


Václav II.

Václav III.




## VÝŠINNÉ OPEVNĚNÉ SÍDLIŠTĚ JINDŘÍN


Nedaleko obce Radkovice najdeme pozůstatky výšinného opevněného sídliště a hradiště Jindřín.

 Jakým způsobem byla hradiště opevněná?

- opevnění dřevěnými hradbami s využitím přirozené terénní ochrany
- opevnění kamennými hradbami s využitím přirozené terénní ochrany
- železobetonové opevnění s využitím přirozené terénní ochrany

 Které budovy se nacházely v hradišti? Uveď alespoň 3 příklady.

palác, kostel, obydlí řemeslníků a rolníků, někdy dvorce

 Sídliště Jindřín je archeologickou památkou. Na základě toho urči, co je předmětem zkoumání archeologie.

hmotné prameny neboli nálezy, např. nástroje, zbraně, nádoby, ozdoby, stavby nalezené na poli, v lese, na dně řek, jezer, moří nebo při hloubení základů domů