

1 PRVNÍ PÍSEMNÁ ZMÍNKA V SOUVISLOSTECH

? Doplň.

Z doby vlády _____, během níž kázal Jan Hus v Betlémské kapli, pochází první zmínka o Radkovicích. Jedná se o rok _____ (MCCCXCVII).

? Z kterého panovnického rodu pocházel tento panovník? _____

? Kdy zemřel Jan Hus? Za jakých okolností?

? Kde se nachází Betlémská kaple? _____

? Které hnutí vzniklo z okruhu stoupců Jana Husa? _____

2 MAPA

? Radkovice najdeme asi 5 km jihovýchodně od Přeštice. Zakresli do mapy šipku od Radkovic směrem, kterým bychom našli Přeštice, kdyby mapa zahrnovala i toto území.




3 POKLAD GROŠŮ

V roce 1882 byl ve vesnici nalezen velký poklad grošů, který byl ukryt před rokem 1440.

? Uvedené letopočty napiš římskými číslicemi a stanov, o které století se jedná.

- _____
- _____

? Co to byl GROŠ? Vysvětli. _____

 Za kterého panovníka se groš začal v Čechách používat?

Václav I.

Přemysl Otakar II.


Václav II.

Václav III.





VÝŠINNÉ OPEVNĚNÉ SÍDLIŠTĚ JINDŘÍN

Nedaleko obce Radkovice najdeme pozůstatky výšinného opevněného sídliště a hradiště Jindřín.

 Jakým způsobem byla hradiště opevněná?

- opevnění dřevěnými hradbami s využitím přirozené terénní ochrany
- opevnění kamennými hradbami s využitím přirozené terénní ochrany
- železobetonové opevnění s využitím přirozené terénní ochrany

 Které budovy se nacházely v hradišti? Uveď alespoň 3 příklady.

 Sídliště Jindřín je archeologickou památkou. Na základě toho urči, co je předmětem zkoumání archeologie.
