

1 HISTORIE OBLASTI V SOUVISLOSTECH

📍 Dopln.

Z doby vlády krále _____, který získal dědičný královský titul, pochází první písemná zmínka o Přešticích, a to z roku _____ (MCCXXVI). Během vlády jeho následníka _____ koupil v roce _____ (MCCXXXIX) Přeštice kladubský klášter. Když v Čechách panoval _____, který zemřel v bitvě u Moháče roku _____, byla Přešticím udělena první městská práva. Stalo se tak konkrétně v letech _____ (MDXIX) a _____ (MDXXIV). Po smrti tohoto panovníka usedl na trůn _____ z rodu _____. V době jeho vlády, v roce _____ (MDXLVIII), prodali Švihovští z Rýzemberka kvůli velkému zadlužení Švihov i s Přešticemi. Poté docházelo k častému střídání zástavních majitelů města. V letech _____ (MDCCV) až _____ (MDCCLXXXV) vlastnil Přeštice opět kladubský klášter. Po mnichovských událostech v roce _____ se z Přeštic stalo pohraniční město.

📍 Vyjmenuj chronologicky všechny panovnické rody, které vládly v Čechách.


📍 Vysvětli, co to jsou MĚSTSKÁ PRÁVA, uveď příklady.


📍 Co bylo předmětem MNICHOVSKÉ DOHODY a kdo se na ní dohodl?

2 VÝZNAMNÉ OSOBNOSTI PŘEŠTIC


📍 Urči, kdo je kdo.

Václav Stach	regionalista, beletrista a učitel
Josef Hlávka	vlastenecký kněz a historik, autor díla Dějepis města Přeštic
Emanuel Václav Řičák	hudební skladatel, pedagog a sběratel lidových písní
Josef Berka	architekt, podnikatel a mecenáš
Josef Rebec	kněz, spisovatel a překladatel
Jaroslav Preis	učitel, básník, prozaik, autor děl pro děti a mládež
Jaroslav Bradáč	spisovatel, představitel ruralismu a autor děl věnovaných rodnému Přešticu
Josef Kožíšek	finančník, národohospodář, politik, odborný publicista, novinář, ředitel Živnostenské banky a redaktor Národních listů

 V Přešticích se nachází několik míst, kde si můžeme některé z významných osobností připomenout. Jakým způsobem? Uveď alespoň dva konkrétní příklady.

 Urči, zda jsou tvrzení pravdivá.

Nejnámějším přeštickým rodákem je Jakub Josef Ryba.	ANO	NE
Byl to skladatel a pedagog.	ANO	NE
Více než polovinu svého života žil a pracoval v Rožmitálu pod Třemšínem.	ANO	NE
Za jeho práci mu bylo uděleno čestné právo plzeňského měšťana.	ANO	NE
Jeho nejproslulejším dílem je stále oblíbená Latinská mše vánoční.	ANO	NE


 Nepravdivá tvrzení oprav.

SOUSOŠÍ

 V Přešticích se nachází neobvyklé sousoší, koho/co představuje? Proč se zde nachází?

 Vysvětli pojem SOUSOŠÍ.

POVĚST O SIROTČÍ LOUCE

 Na Sirotčí louce u břehu řeky se prý pánům kdysi nedařilo usušit seno, vždy jim shnilo. Vyprávěj pověst, proč se tak dělo.


5

DOMINANTA PŘEŠTIC

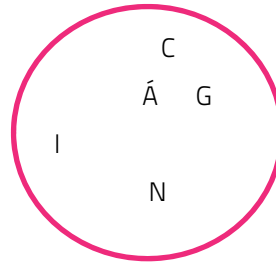
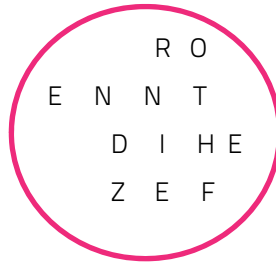
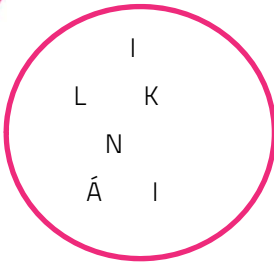
? Doplň do nadpisu, která stavba je dominantou Přeštic.

? Doplň.

Předchůdce této stavby byl poprvé zmiňován roku _____ (MCCXLV). Byl tedy zřejmě postaven v _____ slohu. Kapacita stavby přestávala v první polovině 18. století dostačovat. Proto se tehdejší vlastníci Přeštic, řád sv. Benedikta z _____, jehož mottem je heslo „Ora et labora“ – česky „Modli se a _____“, rozhodl vystavět novou stavbu v _____ slohu. Stavba započala v roce _____ (MDCCL).



? Vylušti, kdo je autorem návrhu stavby.



? Z uvedených staveb vyber ty, které tento architekt a stavitel stavěl v západních Čechách.

- Kladrubský klášter Invalidovna na Karlíně kostel Narození Panny Marie v Nicově
 kostel sv. Mikuláše na Malé Straně klášter voršilek v Kutné Hoře
 Cisterciácké opatství Nanebevzetí Panny Marie v Plasích Sázavský klášter
 kostel sv. Máří Magdaleny v Karlových Varech kostel sv. Jana Nepomuckého v Nepomuku

6

MASARYKOVO NÁMĚSTÍ

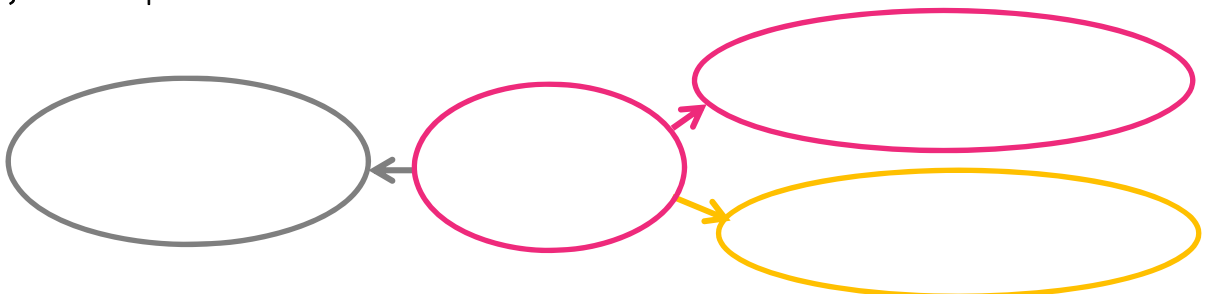
? Na Masarykově náměstí se nachází kašna, na které najdete sochu představující českého knížete, který zemřel v září roku 929 nebo 935. O koho se jedná? _____

? K čemu ve městech ve středověku a novověku kašna sloužila? _____

? Na náměstí také stojí památka, která je zdobena třemi sochami: Panny Marie, sv. Vojtěcha a sv. Václava. Jak se tato památka nazývá? _____

? Proč se tyto sloupy nazývají morové? _____

? Na náměstí se nachází socha významné osoby českých dějin. Do myšlenkové mapy doplň její jméno a napiš o ní tři informace.



7

HROBKA A RODNÝ DŮM

? Doplň do nadpisu, se kterou významnou osobou jsou tyto památky spojené.

? Kde můžeme tyto dvě památky v Přešticích najít?



? Hrobka byla vystavěna v roce _____ (MDCCCLXXXVII). Ve kterém slohu byla postavena? _____

? Vyznač na fotografii prvky typické pro tento sloh.

8

KOSTEL SV. AMBROŽE VE VÍCOVĚ

Samota Vícov je místem zaniklé stejnojmenné vesnice. Nachází se zde kostel sv. Ambrože.

? K zániku této vsi došlo zřejmě v době třicetileté války. Kdy k tomu tedy mohlo dojít? Vymez.

? Kostel byl postaven v románském slohu okolo roku _____ (MCCL). **Vyznač** na fotografii části kostela, které se z této doby dochovaly.

? Kostel byl okolo roku _____ (MCCC) přestavěn v gotickém slohu. Rozliš od sebe tyto dva slohy. (Uveď tři znaky u každého.)



ROMÁNSKÝ SLOH	GOTICKÝ SLOH
<ul style="list-style-type: none"> ▪ ▪ ▪ 	<ul style="list-style-type: none"> ▪ ▪ ▪

? V kostele se nacházejí velmi cenné nástěnné malby neboli fresky z doby po roce 1500 (MD), a to na stěnách lodi (1) a presbytáře (2). Vyznač na fotografii, o které části kostela se jedná.