

1 PRVNÍ PÍSEMNÉ ZMÍNKY V SOUVISLOSTECH

?

Doplň.

V pramenech se poprvé Mítov objevuje v roce _____ (MCCCXLIX). Tedy v době, kdy vládl _____, který nechal postavit kamenný most v Praze a který měl ve svém životě postupně čtyři ženy: _____

Nové Mitrovice založil kolem roku _____ (MDCXCV) Jiří Zdeněk Václav Hynek Vratislav z Mitrovic, který zde založil _____ (Fe) hut' s vysokou pecí. Tehdy vládl _____, jehož vláda je známá jako doba, kdy docházelo k povstání poddaných. Nejznámější povstání proběhlo v západních Čechách – vzbuření _____. Jeho vůdcem byl sedlák _____.

?

Mítov byl střediskem hutního podnikání a Nové Mitrovice byly založeny jako vesnice hutníků a horníků. V obou vsích se tedy nacházela řada hamrů. Co to byl hamr?

- důl vybavený dolovacím strojem, který je poháněn vodním kolem
- metalurgická a kovářská dílna, která je vybavená kovací strojem poháněným vodním kolem
- metalurgická a kovářská dílna, která je vybavená kovací strojem poháněným párou

2 MAPA

?

Nové Mitrovice se nachází asi 6 km jihovýchodně od Spáleného Poříčí. Zakresli do mapy šipku od Nových Mitrovic směrem, kterým bychom našli Spálené Poříčí, kdyby mapa zahrnovala i toto území.

?

Pod správní území Nových Mitrovic patří Mítov, Nechanice a Planiny. Zakresli tyto části Nových Mitrovic do mapy.



3

VÝZNAMNÉ OSOBNOSTI

? Rozřad' správně informace.

- ☺ zatčen a odsouzen k šestitýdennímu vězení ☺ spisovatel, humorista a vydavatel satirických časopisů
 ☺ narodil se v Nových Mitrovicích ☺ na rodném domě je pamětní deska
 ☺ narodil se v Mítově ☺ domnělý spoluautor Rukopisu královédvorského a Rukopisu zelenohorského
 ☺ kvůli politické satíře měl potíže s absolutistickým režimem ☺ spisovatel, dramatik, novinář
 ☺ spřátelil se s Václavem Hankou ☺ vydával humoristický časopis Brejle
 ☺ trpěl tuberkulózou

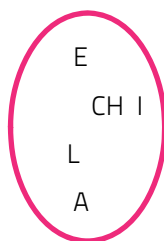

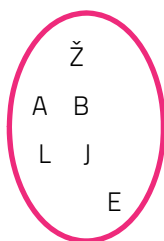
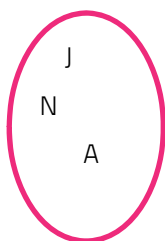
JOSEF LINDA	BEDŘICH MOSER
▪	▪

4

NOVÉ MITROVICE – KOSTEL SV. JANA NEPOMUCKÉHO

? Urči dle fotografie, ve kterém architektonickém slohu je kostel sv. Jana Nepomuckého vystavěn. _____

? Vedou se spory o tom, zda mohl být kostel postaven podle plánů jistého věhlasného architekta. Vylušti jeho jméno.



? Tento architekt je autorem dalších významných památek v západních Čechách. Kterých?

- kostel Panny Marie Vítězné na Bílé Hoře
- kostel Nanebevzetí Panny Marie v Kladrubech
- zámek Karlova Koruna
- Mariánská Týnice
- klášter Plasy

? Jedná se o siluetově i panoramaticky mimořádnou stavbu. Vyznač na fotografii, kde se nachází centrální presbytář (kněžiště).

5

ZANIKLÝ LIŠKŮV HRAD (HRADIŠTĚ A ZŘÍCENINA) A HRADIŠTĚ KOKŠÍN

? Zbytky obou dvou hradišť představují hlavně valy. Co to je val a k čemu sloužil?

- preventivní opatření proti povodním
- násep zeminy, kamení nebo hlušiny, jež je součástí systému opevnění
- prohlubeň v zemi jako opevňovací prvek

? Ze kterého období pochází opevněné sídlo, jež nazýváme hradiště?

střední doba kamenná mladší doba kamenná raný středověk vrcholný středověk

6

MÍTOV – VODNÍ MLÝN

? Urči dle fotografie, o který druh stavby lidové architektury se jedná.



? Urči, co je co.

1) pavlač	dřevěné koryto na vodu, přívod vody pro kolo
2) náhon	trojúhelníkový nebo lichoběžníkový prkenný štít
3) vantroky	je ze dřeva a po obvodu má řadu dřevěných lopatek nebo kapes
4) vodní kolo	balkón, také otevřená chodba na straně budovy do dvora
5) lomenice	lidskou rukou vytvořená vodní cesta, většinou začínající nad jezem či hrází

? Pokud je to možné, vyznač tyto pojmy na fotografii.

7

MÍTOV – VENKOVSKÉ USEDLOSTI (Č. P. 17, 23)

? Kterou technikou jsou postavené tyto stavby?

- technikou roubení (trámy, kladené svíse vedle sebe, jsou nahoře spojovány různými typy tesařských vazeb)
- technikou hrázdění (trámy, kladené vodorovně na sebe, jsou v rozích spojovány různými typy tesařských vazeb)
- technikou roubení (trámy, kladené vodorovně na sebe, jsou v rozích spojovány různými typy tesařských vazeb)

