

1 PRVNÍ PÍSEMNÁ ZMÍNKA V SOUVISLOSTECH

? Dopln.

Kbel je poprvé zmiňován v roce 1352 (MCCCLII). V této době vládne v Čechách Karel IV., který napsal vlastní životopis s názvem Vita Caroli. Tento panovník pocházel z vládnoucího rodu Lucemburků.

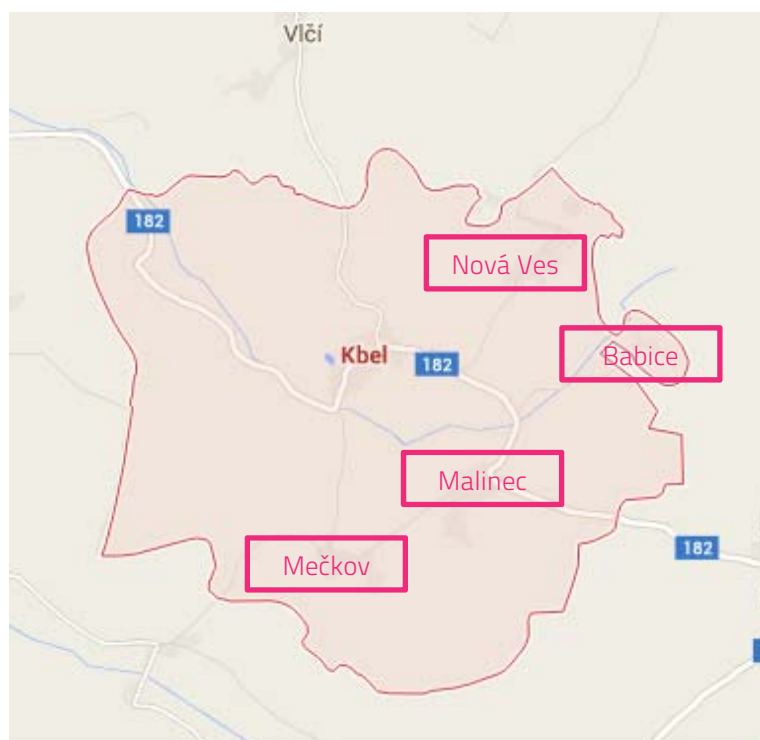
? Dopln tabulku s panovníky z tohoto rodu a stručně charakterizujíc jejich vládu.

PANOVNÍK	PŘEZDÍVKA	UDÁLOST	OSOBNOST
Jan Lucemburský	král cizinec	bitva u Kresčaku 1346	Jindřich z Lipé
Karel IV.	Otec vlasti, papský král	založení pražské univerzity 1348	Arnošt z Pardubic
Václav IV.	-----	upálení Jana Husa 1415	Jan Hus
Zikmund Lucemburský	liška ryšavá	husitská revoluce	Prokop Holý

2 MAPA

? Kbel leží asi 10 km jižně od Přeštic. Zakresli do mapy šipku od Kbelu směrem, kterým bychom našli Přeštice, kdyby mapa zahrnovala i toto území.

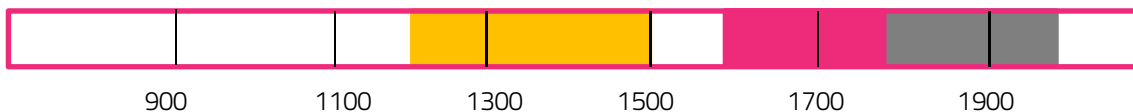
? Pod správním územím Kbelu patří Babice, Malinec, Mečkov a Nová Ves. Zakresli je do mapy.



3

KOSTEL VŠECH SVATÝCH

? Kostel je **gotického** původu. Později byl upravován **barokně** a **novogoticky**. Zakresli do časové osy, kdy se v těchto slozích stavělo.



? Z původní stavby zbyl **gotický presbytář (1)**. Ten je **obestavěn oratořemi (2)** a **sakristií (3)**. Přiřaď k definicím správnou část kostela.

- vyvýšené a oddělené místo k modlitbě v kostele, obvykle se zvláštním vchodem (2)
- kněžiště, tj. část vyhrazená kněžím (1)
- místnost, v níž jsou uchovávána bohoslužebná roucha kněží i ministrantů a předměty užívané při bohoslužbě (3)

4

FARA (Č. P. 35)

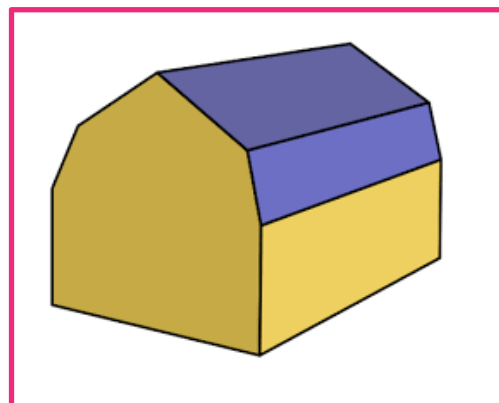
? Dopln.

Fara z roku **1753** (MDCCLIII) má mansardovou střechu. To je jeden z typických znaků **barokního** slohu.

? Načrtni, jak vypadá mansardová střecha.

? Vysvětli, proč se fara vždy nachází v blízkosti kostela.

Protože je to obydlí a zároveň úřadovna faráře, úřední sídlo farnosti a případně i místo jejich dalších, zejména neliturgických aktivit.



5

MOHYLOVÉ POHŘEBIŠTĚ

Nálezy mohylových pohřebišť v okolí obce Kbel dokládají osídlení zdejší krajiny západočeskou skupinou lidí mohylové kultury doby bronzové.

? O které období se jedná?

- 4 000 – 1 800 př. n. l.
- 1 800 – 700 př. n. l.
- 700 př. n. l. – 0

? Na která další období dělíme pravěk? Vyjmenuj.

doba kamenná a doba železná

? Vysvětli, co to je mohyla.

násep z kamene a hlíny, pod nímž byli pohřbeni zemřelí