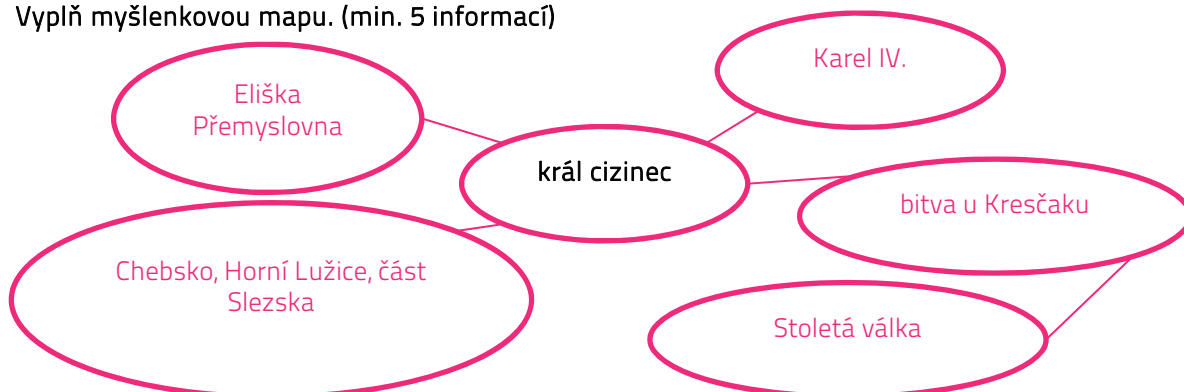


## 1 PRVNÍ PÍSEMNÉ ZMÍNKY V SOUVISLOSTECH

? Doplň.

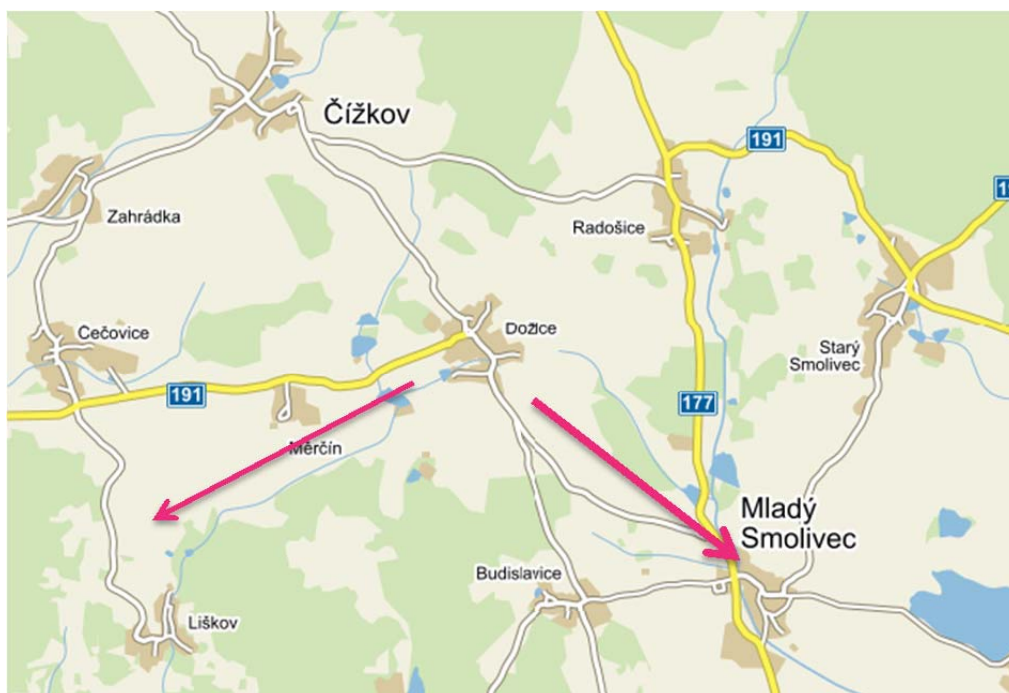
V písemných pramenech se Dožice poprvé objevují v roce 1318 (MCCCXVIII). V této době v Čechách vládl Jan Lucemburský, přezdívaný král cizinec.

? Vyplň myšlenkovou mapu. (min. 5 informací)



## 2 MAPA

? Dožice leží 9 km severovýchodně od Nepomuku a 17 km severozápadně od Blatné. Zakresli do mapy šipky od Dožic směry, kterými bychom našli Nepomuk a Blatnou, kdyby mapa zahrnovala i tato území.

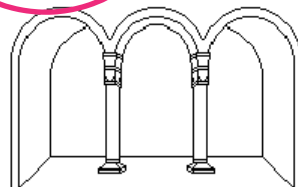


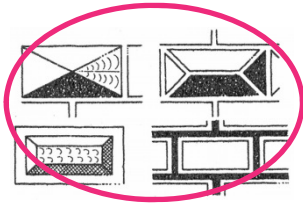


3

## KOSTEL ARCHANDĚLA MICHAELA

Kostel Archanděla Michaela z roku 1575 (MDLXXV) je vzácnou ukázkou renesanční církevní architektury, v kraji ojediněle.

Urči, na kterých obrázcích se nacházejí prvky renesanční architektury.



V 18. století se vlastníkem Dožic stal řád maltézských rytířů, který je jedním z velkých rytířských mnišských řádů. Vysvětli, co to byly rytířské mnišské řády a proč vznikaly.

jejich posláním bylo ochraňovat poutníky při cestě do Jeruzaléma, ochraňovat věřící, pomáhat potřebným a bránit Jeruzalém před muslimy

Uved' příklad dalšího takového řádu. řád německých rytířů, řád templářů

V kostele Archanděla Michaela jsou vyřezávané lavice, jež jsou kromě barokizujících prvků zdobené maltézským křížem. Jak tento kříž vypadá?



4

## SOCHY SVĚTCŮ

Přiřad' k fotografiím soch správné názvy (socha sv. Antonína Paduánského, socha sv. Anny, socha sv. Jana Nepomuckého).



sv. Jan Nepomucký



sv. Antonín Paduánský



sv. Anna