

1 PRVNÍ PÍSEMNÁ ZMÍNKA V SOUVISLOSTECH

? Doplň.

První písemná zmínka o obci pochází z roku **1115** (MCXV). V tomto roce daroval kníže Vladislav I. kostel a popluží v Dnešicích klášteru v Kladrubech.

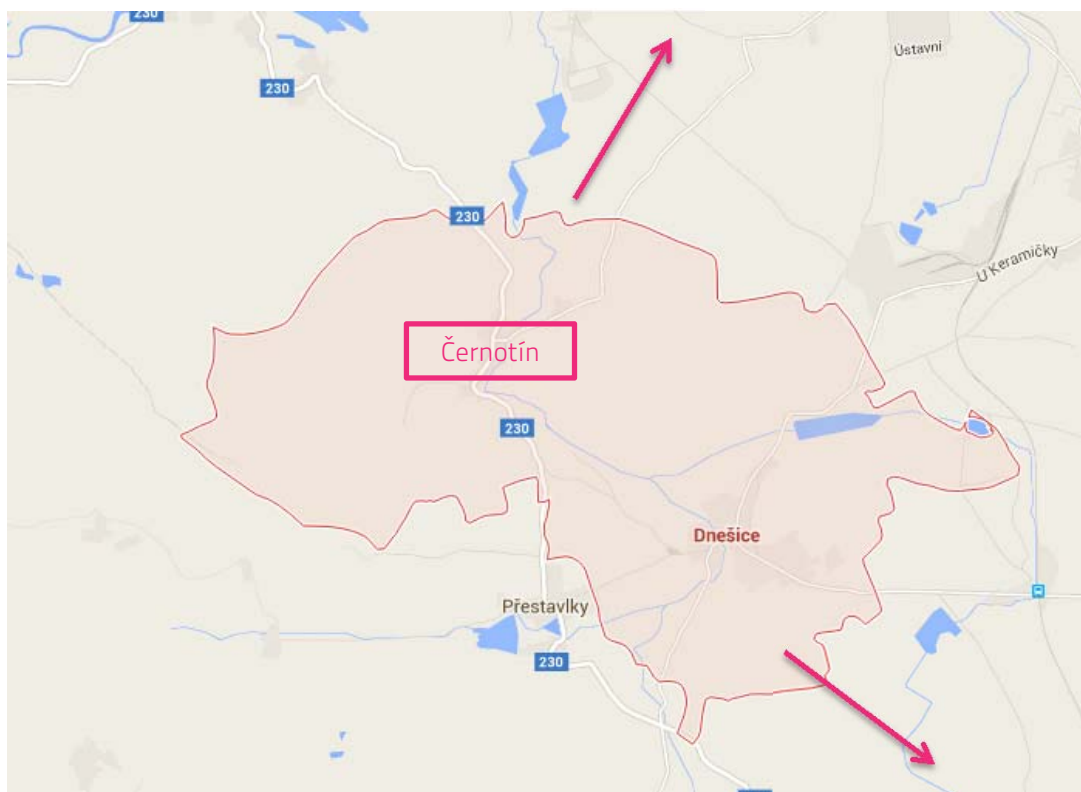
Vladislav I. byl z panovnického rodu **Přemyslovců**. Jeho nejstarší syn **Vladislav II.** se stal druhým českým králem.

2 MAPA

Dnešice leží asi 7 km jihozápadně od Dobřan, 6 km severozápadně od Přeštic.

? Zakresli do mapy šipky od Dnešic těmi směry, kterými bychom našli Dobřany a Přeštic, kdyby mapa zahrnovala i tato území.

? Součástí Dnešic je také vesnice Černotín. Zakresli ji do mapy.





3 SYNAGOGA

V 1. polovině 19. století byla v Dnešicích vybudovaná synagoga.



Co je to za budovu? Vysvětli.

židovská modlitebna, sloužící nejen jako místo pro bohoslužebná setkání, ale i jako místo společenských setkání nebo náboženského studia.

Se kterým náboženstvím je tato budova spojena? s judaismem



4 VÝZNAMNÉ OSOBNOSTI



Kdo z uvedených osob je dnešický rodák?

Josef Hlávka

Tomáš Antonín Vorbes

Jakub Jan Ryba

Václav Mentberger

Josef Pachmayer



Které povolání vybraná osoba / vybrané osoby vykonávaly?

vlastivědný pracovník

architekt, stavební podnikatel, největší český mecenáš

pedagog a spisovatel (Vorbes)

hudební skladatel

žurnalista, překladatel a spisovatel, dlouholetý redaktor Národních listů (Pachmayer)

amatérský historik



5 KOSTEL SV. VÁCLAVA




Doplň.

Kostel je připomínán již k roku 1352 (MCCCLII), byl tedy původně vystavěn v gotickém slohu.



Najdi správný význam pojmů.

1) věž	podlouhlý prostor zaklenutý klenbami
2) loď	kněžiště, část prostoru křesťanského kostela vyhrazena kněžím
3) presbytář	místnost umístěná zpravidla bočně od kněžiště (nebo za hlavním oltářem)
4) sakristie	stavba, jejíž výška značně převyšuje půdorysné rozměry

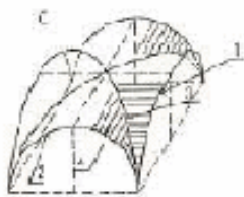


Vyznač jednotlivé části kostela z předchozího úkolu na fotografii.

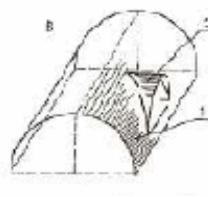


Jedna z částí kostela má mansardovou střechu. O kterou část se jedná? Vyznač ji na fotografii.

? V podvěží kostela se nachází valená klenba, v presbytáři je klenba křížová. Rozliš na obrázcích, která je která.



křížová klenba



valená klenba

6 FARA (Č. P. 8)

? Urči, ve kterém slohu je budova postavena.
barokním

? Objasni, k jakým účelům tato budova ve vsi sloužila.

jako obydlí a zároveň úřadovna faráře, úřední sídlo farnosti a případně i místo jejich dalších, zejména neliturgických aktivit



7 SAKRÁLNÍ STAVBA

? Urči dle fotografie, o který druh sakrální stavby se jedná.

- Boží muka
- kostelík
- výklenková kaple

? Vysvětli pojem SAKRÁLNÍ STAVBA.

stavba sloužící pro náboženské nebo rituální úkony, např. v křesťanství slouží sakrální stavba k uctívání a chvále Boha (může se jednat o katedrálu, kostel, kapli, Boží muka i kříž u cesty)

? Součástí stavby je soška sv. Vojtěcha, kostel v Dnešicích je zasvěcen sv. Václavovi. Oba dva jsou českí zemští patroni. Jaké další české zemské patrony znáš? (uved' alespoň 3)

sv. Ludmila, sv. Prokop, sv. Zikmund, sv. Jan Nepomucký, sv. Cyril a Metoděj

