

1

PRVNÍ PÍSEMNÉ ZMÍNKY V SOUVISLOSTECH

🔍 Doplň chybějící údaje do textu.

Někdy je první zmínka o obci Čížkov kladena již do roku **1146 (a)**. Jedná se o dobu vlády českého knížete _____, který se v roce **1158 (b)** stal druhým českým králem. Tento titul získal za pomoc císaři _____ při jeho tažení do Itálie. První spolehlivá písemná zmínka o obci pochází z roku **1237 (c)**, kdy v Českém království panuje _____, otec _____, krále železného a zlatého.

I první zmínka o Přešíně z roku **1239 (d)** pochází z období vlády _____, jehož sestrou byla _____, abatyše kláštera Na Františku. Svatořečena byla v roce **1989 (e)** papežem _____. Tím se stala druhou českou sveticí po svatě _____, manželce prvního doloženého knížete _____.

Vesnice Zahrádka je poprvé v písemných pramenech uváděna k roku **1318 (f)**, kdy v Českém království již nevládne rod _____, ale rod Lucemburků, konkrétně na trůně sedí _____, dědeček Václava IV.

🔍 Přepiš tučně vytištěné letopočty z prvního úkolu na římské číslice a urči, o které století se jedná.

LETOPOČET V ŘÍMSKÝMI ČÍSLICEMI	STOLETÍ
a) _____	a) _____
b) _____	b) _____
c) _____	c) _____
d) _____	d) _____
e) _____	e) _____
f) _____	f) _____

2

ZÁKRES DO MAPY

Čížkov je tvořen z několika částí. Jedná se o vesnice Čechovice, Chynín, Liškov, Měřčín, Přešín, Zahrádka a Železný Újezd.

🔍 Zakresli je do mapy.



3 LIDOVÁ ARCHITEKTURA

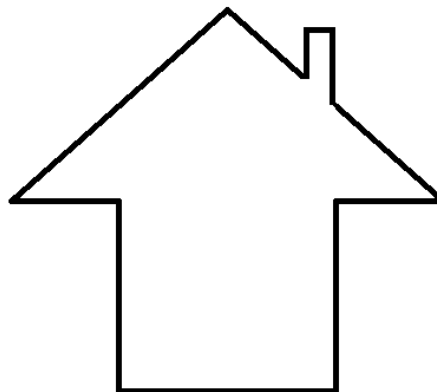
V Čížkově, Přešíně a Zahrádce se nacházejí doklady lidové architektury zejména v roubených stavbách (např. v Čížkově usedlost č. p. 4, v Přešíně statek č. p. 15 nebo v Zahrádce v lokalitě V Chalupách).

V Zahrádce najdeme řadu cenných venkovských stavení (např. č. p. 2, 4, 5, 13). Historické jádro Zahrádky, kde se tato stavení nacházejí, bylo vyhlášeno vesnickou památkovou zónou.

? Dokresli charakteristické rysy tak, aby se jednalo o roubenou stavbu.

? V Čížkově v usedlosti č. p. 28 nebo v Zahrádce č. p. 13 je dochován špýchar neboli sýpka. K čemu sloužila tato budova?


? Vysvětli, co to je vesnická památková zóna.



4 VÝZNAMNÉ PAMÁTKY V ČÍŽKOVĚ, PŘEŠÍNĚ A ZAHRÁDCE

? Přiřaď názvy budov či míst k fotografiím, které je zachycují. Doplň, v které obci se nacházejí.

mlýn, kostel sv. Jana Křtitele, kaple Panny Marie, zřícenina hradu Strašná skála, fara





5

KOSTEL SV. JANA KŘTITELE

Původně gotický kostel sv. Jana Křtitele prošel v 18. století barokními úpravami.

?

Vyjmenuj alespoň tři základní znaky obou zmíněných architektonických stylů.

- gotika:
- baroko:

?

K oběma stylům uveď tři památky západních Čech v daném stylu postavené.

- gotika:
- baroko:

6

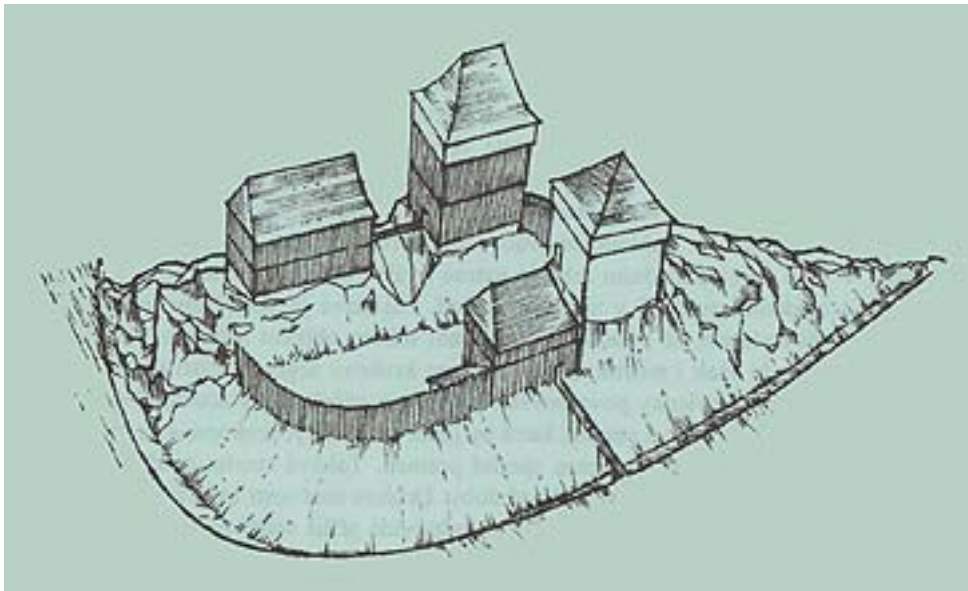
ZŘÍČENINA HRADU STRAŠNÁ SKÁLA

Pozůstatky středověkého hradu nazývaného Strašná skála se nacházejí poblíž vesnic Přešín a Čížkov. Hrad byl založen pravděpodobně po polovině 13. století.

?

Na základě popisu hradu zakresli do obrázku jeho jednotlivé části a označ je příslušným číslem.

Rozměry se nejednalo o velký hrad. Na severu jej od zbytku plošiny odděloval **příkop (1)**. Přístupová cesta vedla od severozápadu **po mostě (2)**. V **předhradí (3)** se nacházel hospodářský objekt, který mohl být i **průjezdní branou (4)**. Vstup byl pod ochranou velké obytné a zároveň **obrné věže (5)**, která těsně přiléhala k západní části předhradí. **Vlastní hradní obydlí (6)** se nalézala nad předhradím na dvou rozdílně vysokých skalních výstupcích. Stavby byly pravděpodobně z kombinace dřeva a kamene a byly na severní a východní straně opevněny **dřevěnou palisádovou hradbou (7)**.



Pozn.: Na obrázku se sever nachází **dole**!



MLÝNY V ZAHRÁDCE

V Zahrádce najdeme na Čížkovském potoce dva mlýny, a to horní mlýn U Trsínů (e. č. 3) a dolní mlýn U Kovářů (č. p. 6). V horním mlýně U Trsínů se dochovalo mlýnské kolo a uvnitř budovy můžeme najít černou kuchyni.



Vysvětli, proč jsou tyto dva mlýny označovány jako horní a dolní?



Objasni, co to je černá kuchyně.

.....